



**SERVIÇO AUTÔNOMO DE ÁGUA E ESGOTO DE
CAPIVARI - SAAE**

CONCURSO PÚBLICO Nº 01/2016

MOTORISTA

**CADERNO DE
QUESTÕES**

ABRA SOMENTE QUANDO AUTORIZADO

Nome do Candidato: _____

Assinatura: _____

Concurso Realizado pela:



Planexcon
ASSESSORIA E CONSULTORIA PÚBLICA

Contato:

contato@planexcon.com.br

Tel0xx15 3282-3542

INSTRUÇÕES

1. Este Caderno contém páginas com questões de múltipla escolha, assim distribuídas:
 - **Português**, com 10 questões enumeradas de 01 a 10;
 - **Matemática**, com 10 questões enumeradas de 11 a 20;
 - **Conhecimentos Específicos**, com 10 questões, enumeradas de 21 a 30;
 - **Conhecimentos Gerais**, com 10 questões, enumeradas de 31 a 40.
2. Cada questão contém 5 (cinco) alternativas (a, b, c, d, e), das quais somente uma atende às condições do enunciado.
3. Esta prova terá a duração de 3 horas, incluído o tempo necessário para preenchimento do Gabarito de Resposta, sendo permitida a saída do candidato da sala de prova somente após 30 minutos do seu início.
4. Responda a todas as questões. Para cômputo da nota, serão considerados apenas os acertos.
5. Não será permitido ao candidato o destaque de qualquer página da prova.
6. Não é permitido, em hipótese alguma, o empréstimo de qualquer objeto.
7. Não se atenha às questões que julgar difíceis, volte a elas se lhe sobrar tempo.
8. Estando as questões respondidas neste caderno, você deverá transcrever todas as alternativas assinaladas para o Gabarito de Respostas, utilizando caneta esferográfica de tinta preta ou azul.
9. Você receberá do Fiscal o Gabarito de Respostas. Verifique se estão em ordem e com todos os dados impressos corretamente. Caso contrário, notifique o Fiscal, imediatamente.
10. Após certificar-se de que a Gabarito de Respostas é seu, assine-o com caneta esferográfica de tinta preta ou azul no local em que há a indicação: "ASSINATURA DO (A) CANDIDATO (A)".
12. A folha de respostas não deve ser dobrada, amassada ou rasurada.
13. É de inteira responsabilidade do candidato qualquer prejuízo advindo de marcação incorreta efetuada no Gabarito de Respostas - Atenção: **O Gabarito de Respostas não será substituído em hipótese alguma.**
14. Serão nulas as respostas rasuradas ou múltiplas para uma mesma questão.

Boa Prova!

LÍNGUA PORTUGUESA

Leia o texto a seguir para responder as questões de números 01 a 10:

Pneu Furado

O carro estava encostado no meio-fio, com um pneu furado. De pé, ao lado do carro, olhando desconsoladamente para o pneu, uma moça muito bonitinha. Tão bonitinha que atrás parou outro carro e dele desceu um homem dizendo: “Pode deixar”. Ele trocaria o pneu.

- Você tem macaco? – perguntou o homem.

- Não – respondeu a moça.

- Tudo bem, eu tenho – disse o homem.

- Você tem estepe?

- Não – disse a moça.

- Vamos usar o meu – disse o homem.

E pôs-se a trabalhar, trocando o pneu, sob o olhar da moça. Terminou no momento em que chegava o ônibus que a moça estava esperando. Ele ficou ali, suando, de boca aberta, vendo o ônibus se afastar. Dali a pouco chegou o dono do carro.

- Puxa, você trocou o pneu pra mim. Muito obrigado.

- É. Eu ... Eu não posso ver pneu furado. Tenho que trocar.

- Coisa estranha.

- É uma compulsão. Sei lá.

Luís Fernando Veríssimo

QUESTÃO 01

O texto “Pneu furado” é contado por:

- a) Uma moça muito bonitinha.
- b) Luís Fernando Verissimo.
- c) Um homem que trocou o pneu do carro.
- d) O dono do carro.
- e) Alguém que passava pela rua.

QUESTÃO 02

O homem parou seu carro e dele desceu, dizendo à moça “**pode deixar**”. Ele tomou essa atitude, pois:

- a) Está se divertindo com a situação.
- b) É bondoso.
- c) Gosta de trocar pneu.
- d) Acredita que o carro com pneu furado é da moça muito bonitinha.
- e) Pensa em atropelar a moça.

QUESTÃO 03

De acordo com o texto “Pneu furado”, assinale a alternativa **incorreta**:

- a) Ao lado do carro encostado, com um pneu furado, estava uma moça muito bonitinha.
- b) Para trocar o pneu desceu um homem de outro carro.
- c) Ele resolveu trocar o pneu, pois pensou que o carro era da moça.
- d) A moça não tinha macaco e nem estepe.
- e) A moça não olhava para o trabalho que o homem executava.

QUESTÃO 04

“Ele ficou ali, **suando, de boca aberta**, vendo o ônibus se afastar”. Isso significa que o homem ficou:

- a) Admirado e alegre.
- b) Feliz e contente.
- c) Cansado e surpreso.
- d) Triste e assustado.
- e) Aborrecido e indignado.

QUESTÃO 05

O principal assunto do texto é:

- a) A troca de pneu por engano.
- b) O dono do carro.
- c) A moça desconsolada.
- d) O carro.
- e) A moça e o ônibus.

QUESTÃO 06

“Terminou no **momento** em que chegava o ônibus que a moça estava esperando”.

A palavra “**momento**” pode ser substituída no texto, por:

- a) Segundo.
- b) Hora.
- c) Minuto.
- d) Ocasão.
- e) Instante.

QUESTÃO 07

Na frase “É uma **compulsão**”, o vocábulo em destaque tem o significado de:

- a) Gosta de trocar pneu.
- b) É um prazer.
- c) Não consegue resistir.
- d) Não sabe explicar.
- e) É um hábito.

QUESTÃO 08

“De pé, ao lado do carro, olhando desconsoladamente para o pneu, uma moça muito bonitinha”, a palavra **desconsoladamente** é antônima de:

- a) Triste.
- b) Alegrementemente.
- c) Sem consolo.
- d) Tristemente.
- e) Furiosamente.

QUESTÃO 09

As palavras estão acentuadas corretamente na alternativa:

- a) Pé – ônibus.
- b) Môça – pé.
- c) Onibus – lá.
- d) Atras – estepe.
- e) Sôb – lá.


QUESTÃO 10

A alternativa em que a palavra está dividida corretamente, de acordo com a divisão silábica é a:

- a) Carro: ca-rro.
- b) Pneu: pn-e-u.
- c) Bonitinha: bo-ni-tin- ha.
- d) Deixar: dei- xar.
- e) Ônibus: ôni-bus

MATEMÁTICA

QUESTÃO 11



<http://recordandomatematica.blogspot.com.br/2014/05/as-operacoes-basicas-da-matematica.html>. Acesso em: 17/4/2016

Os sinais que aparecem acima representam as quatro operações fundamentais da Matemática. Pela ordem da imagem, eles representam:

- a) Adição, Divisão, Multiplicação, Subtração.
- b) Divisão, Subtração, Multiplicação, Adição.
- c) Adição, Subtração, Multiplicação, Divisão.
- d) Multiplicação, Subtração, Adição, Divisão.

e) Subtração, Adição, Multiplicação, Divisão.

QUESTÃO 12

De quatro centenas e meia de pés de eucaliptos, foram derrubados 0,6. Quantos pés ficaram?

- a) 180.
- b) 390.
- c) 270.
- d) 444.
- e) 186.

QUESTÃO 13

Observe as figuras abaixo:

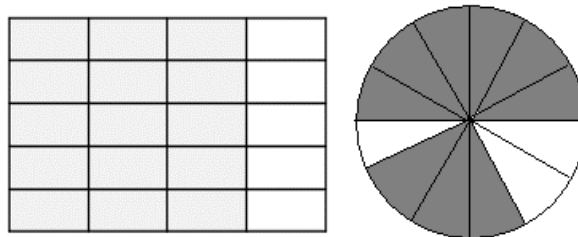


Somando-se as partes coloridas das duas figuras, obteremos a fração:

- a) $6/8$.
- b) $8/8$.
- c) $10/16$.
- d) $10/8$.
- e) $5/8$.

QUESTÃO 14

As figuras abaixo correspondem aos seguintes números decimais:



- a) 0,15 e 0,3.
- b) 0,75 e 0,75.
- c) 0,15 e 0,9.
- d) 0,05 e 0,03.
- e) 0,20 e 0,12.

QUESTÃO 15



BICICLETA em PROMOÇÃO
Preço: R\$ 880,00

Na promoção, Maria comprou o produto acima e deu 50% de entrada. O valor restante vai pagar em quatro prestações iguais, sendo cada uma no valor de:

- a) R\$ 88,00.
- b) R\$ 220,00.
- c) R\$ 120,00.
- d) R\$ 55,00.
- e) R\$ 110,00.

QUESTÃO 16

Luís faz o percurso de sua casa até o local onde trabalha em $\frac{2}{5}$ de hora. Quantos minutos ele leva para fazer o percurso?

- a) 14 minutos.
- b) 30 minutos.
- c) 10 minutos.
- d) 24 minutos.
- e) 12 minutos.

QUESTÃO 17




http://cejarj.cecierj.edu.br/pdf/Unidade8_Mat.pdf

A sala da planta representada acima mede 4,30 m de comprimento por 3,50 m de largura, conforme mostra a planta. Qual a área da sala?

- a) $7,80 \text{ m}^2$.
- b) $15,05 \text{ m}^2$.
- c) $8,60 \text{ m}^2$.
- d) 7,00 m.
- e) $15,60 \text{ m}^2$.

QUESTÃO 18

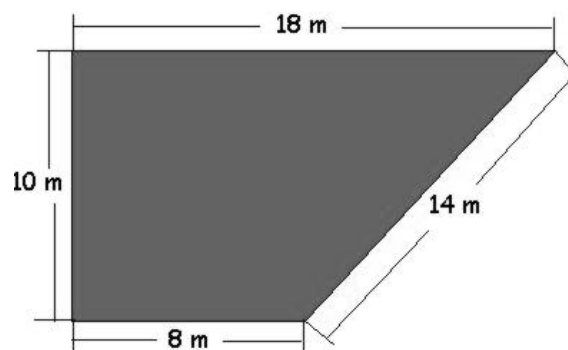
Na hora indicada no relógio, Regina levou o frango ao forno para assar. Ficou 45 minutos no forno. Que horas o frango ficou pronto?



- a) 7 horas e 5 minutos.
- b) 7 horas e 50 minutos.
- c) 8 horas e 5 minutos.
- d) 7 horas e 10 minutos.
- e) 7 horas e 15 minutos.

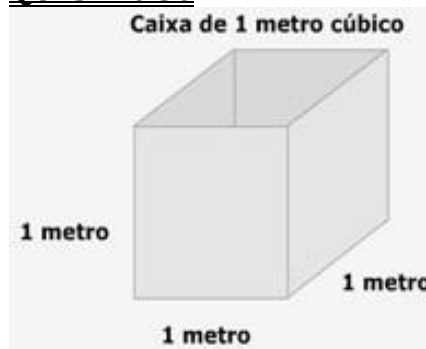
QUESTÃO 19

Juca comprou um terreno que está representado abaixo. Quantos metros de arame serão necessários para cercá-lo se ele pretende utilizar seis voltas de arame?



- a) 255.
- b) 305.
- c) 50.
- d) 318.
- e) 300.

QUESTÃO 30



<http://portaldoprofessor.mec.gov.br>

Utilizando-se a caixa acima para encher de água a ser consumida durante quatro dias da semana, o total de litros consumidos é de:

- a) 400.
- b) 40.

- c) 4.000.
- d) 40.000.
- e) 400.000.

CONHECIMENTOS ESPECÍFICOS

CONHECIMENTOS GERAIS

QUESTÃO 31

Nas eleições estaduais realizadas em 2014, com 52,31% dos votos, foi eleito para governar o estado de São Paulo:

- a) Geraldo Alckmin.
- b) Alexandre Padilha.
- c) Paulo Skaf.
- d) Gilberto Natalini.
- e) Gilberto Maringoni de Oliveira.

QUESTÃO 32

Com referência ao município de Capivari, **não** é seu vizinho:

- a) Elias Fausto.
- b) Mombuca.
- c) Porto Feliz.
- d) Tietê.
- e) Rafard.

QUESTÃO 33

Por ser a terra natal dos poetas Amadeu Amaral, Rodrigues de Abreu e Alexandre Rossi, o município de Capivari é conhecido como:

(<https://pt.wikipedia.org/wiki/Capivari>)

- a) Terra dos Poemas.
- b) Terra das Letras.
- c) Terra dos Poetas.
- d) Terra Romântica.
- e) Terra Poetiza.

QUESTÃO 34

Pelo menos 480 mortos, 2.560 feridos e 1.700 desaparecidos é o novo balanço do poderoso terremoto que, em 19 de abril de 2016, atingiu:

(<http://g1.globo.com/mundo/noticia/2016/04/novo-terremoto>)

- a) O Chile.

- b) O Equador.
- c) A Venezuela.
- d) O Peru.
- e) A Colômbia.

QUESTÃO 35

O número de mortes aumentou 50% em uma semana e chegou a 153 óbitos, sendo 91 no estado de São Paulo, informou o Ministério da Saúde, com dados reunidos até 9 de abril. O caso trata-se de:

(<http://ultimosegundo.ig.com.br/igvigilante/saude/2016-04-09-153-otimos-estados-paulista-50-porcento-aumentou-em-uma-semana>)

- a) Zika.
- b) Gripe comum.
- c) Dengue.
- d) Malária.
- e) Gripe H1N1;

QUESTÃO 36

O cantor e compositor que completou 75 anos no dia 19 de abril de 2016, foi comemorar seu aniversário em sua terra natal, Cachoeiro do Itapemirim. Ele é:

- a) Sergio Reis.
- b) Eduardo Araújo.
- c) Agnaldo Rayol.
- d) Roberto Carlos.
- e) Erasmo Carlos.

QUESTÃO 37

O desemprego no Brasil passou dos dois dígitos. São muitos os que estão fora do mercado, sem ocupação. É a maior taxa da série histórica do IBGE, que começa em 2012. A taxa de desemprego chega a 10,2% da população e, em números absolutos representa um total de:

(<http://g1.globo.com/jornalglobo/noticia/2016/04/desemprego-no-brasil-chega-maior-taxa-da-serie-historica-do-ibge.html>)

- a) 10,4 milhões de brasileiros.
- b) 5,0 milhões de brasileiros.
- c) 8,5 milhões de brasileiros.
- d) 15,0 milhões de brasileiros.
- e) 7,5 milhões de brasileiros.

QUESTÃO 38

A chama dos Jogos Rio 2016 já está ardendo no local que é o berço do movimento Olímpico. Conforme manda a tradição, a cerimônia de acendimento da

tocha aconteceu no Templo de Hera, na manhã do dia 21 de abril de 2016:

<http://www.rio2016.com/>

- a) Em Esparta.
- b) Em Atenas.
- c) Em Genebra.
- d) Nas Nações Unidas.
- e) Na Grécia.

QUESTÃO 39

Foi confirmado no dia 26/4, para presidir a comissão especial que vai julgar o impeachment de Dilma Rousseff no Senado, o Senador do (PMDB-PB). Nos primeiros minutos da reunião seu nome foi eleito por aclamação. Seu nome é:

www.folha.uol.com.br

- a) Humberto Costa.
- b) Ronaldo Caiado.
- c) Raimundo Lira.
- d) Ivo Cassol.
- e) Aécio Neves.

QUESTÃO 40

Inaugurada em janeiro, no bairro de São Conrado, no Rio de Janeiro, desabou na manhã do dia 21 de abril, deste ano. Dois homens morreram, segundo o Corpo de Bombeiros.

<http://noticias.uol.com.br/cotidiano/ultimas-noticias/2016/04/21>

O assunto refere-se ao desabamento de um trecho da:

- a) Rodovia.
- b) Ciclovia Tim Maia.
- c) Ciclovia Rubro-Negra.
- d) Ciclovia Mané Garrincha.
- e) Ciclovia Ayrton Senna.

GABARITO

<u>CARGO - MOTORISTA</u>							
Questão	Alternativa	Questão	Alternativa	Questão	Alternativa	Questão	Alternativa
01	b	11	c	21	e	31	a
02	d	12	a	22	a	32	d
03	e	13	d	23	d	33	c
04	c	14	b	24	c	34	b
05	a	15	e	25	b	35	e
06	e	16	d	26	a	36	d
07	c	17	b	27	d	37	a
08	b	18	a	28	e	38	e
09	a	19	e	29	b	39	c
10	d	20	c	30	a	40	b